

Teste de Estudo do Meio – 3.º Ano

Nome: _____ Data: ____ / ____ / ____

1. O planeta Terra (10 pontos)



a) Como se chama o planeta representado na imagem?

b) A Terra tem duas grandes partes à superfície. Completa:

c) Escreve duas formas de representar o planeta Terra.

2. Continentes e oceanos (10 pontos)



a) Em que continente se localiza Portugal?

b) Escreve o nome de dois continentes.

c) Escreve o nome de um oceano.

3. Formas da superfície terrestre (10 pontos)

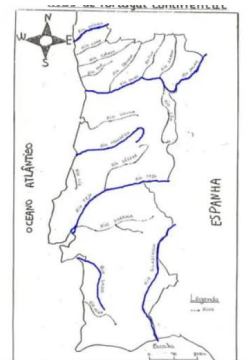


a) Identifica duas formas de relevo na imagem.

b) Completa a frase: Um rio é um curso de _____ que corre até ao mar.

c) Explica para que servem os rios.

4. Mapa de Portugal (10 pontos)



a) O que representam as linhas azuis no mapa?

b) Escreve o nome de dois rios de Portugal.

5. Astros (10 pontos)

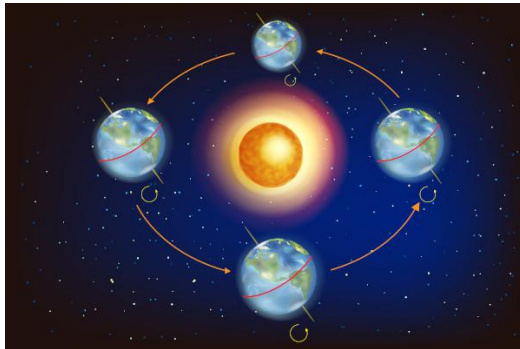


a) O Sol é:

■ um planeta ■ uma estrela ■ um satélite

b) Como se chama o satélite natural da Terra?

6. Movimentos da Terra (10 pontos)



a) Como se chama o movimento da Terra que provoca o dia e a noite?

b) Como se chama o movimento da Terra à volta do Sol?

c) Quantas horas demora aproximadamente a Terra a dar uma volta completa sobre si própria?

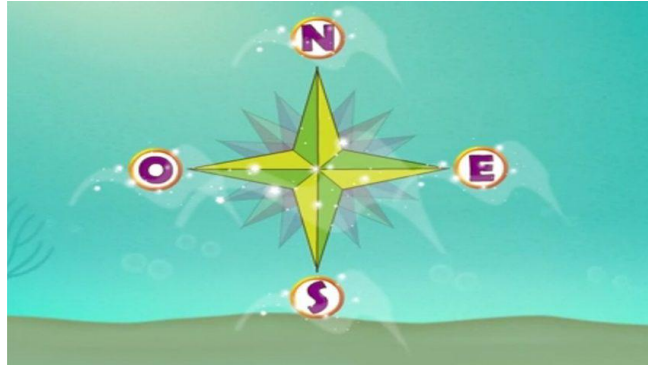
7. Fases da Lua (10 pontos)



a) Escreve o nome de duas fases da Lua.

b) As fases da Lua repetem-se sempre na mesma ordem? ■ Sim ■ Não

8. Pontos cardeais (10 pontos)



a) Escreve os quatro pontos cardeais.

b) Se o Sol nasce a Este, em que ponto cardeal se põe?

9. Propriedades dos materiais (10 pontos)



a) Indica duas propriedades dos materiais.

b) O vidro é um material _____.

10. Questão de desenvolvimento (10 pontos)

Explica porque é importante conhecer os pontos cardeais quando usamos um mapa.
